


## Poznajemy formy terenu

1. Który rysunek przedstawia wzniesienie, który – zagłębienie, a który – równinę? Wpisz pod każdym rysunkiem odpowiednią nazwę formy terenu.



2. Rozwiąż krzyżówkę. Zapisz i wyjaśnij hasło.

1. Wygląd poszczególnych obszarów Ziemi

o charakterystycznych cechach.

2. Wypukła forma terenu

o wysokości powyżej 300 m.

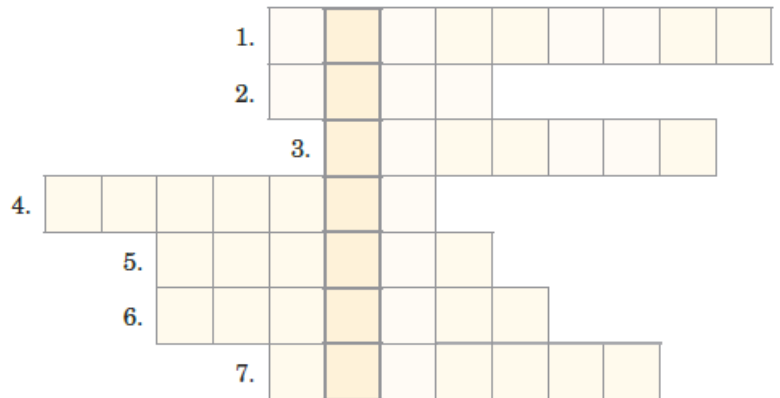
3. Wzniesienie wyższe niż 50 m, ale niższe niż 300 m.

4. Zagłębienie terenu otoczone niemal ze wszystkich stron wzniesieniami.

5. Podłużne zagłębienie terenu, w którym często płynie rzeka.


6. Podstawa wzniesienia.

7. Wzniesienie o wysokości do 50 m.



Hasło: .....

3. Określ, który rysunek przedstawia dolinę, a który – kotlinę. Uzasadnij swoją decyzję.



Rysunek A przedstawia ....., a rysunek B – .....

.....

.....